





«ПУТЕШЕСТВИЕ МАЛЫШЕЙ
В СТРАНУ ГЕОМЕТРИЧЕСКИХ ФИГУР»

1. СОЕДИНИ ПРЕДМЕТ С ПОХОЖЕЙ ГЕОМЕТРИЧЕСКОЙ ФИГУРОЙ




2. НАЙДИ ФИГУРУ ПО ЗАГАДКЕ


МЫ С ТОБОЙ ПОСТРОИМ ДОМИК,
КРЫШЕЙ БУДЕТ ТРЕУГОЛЬНИК,
У КРЫШИ УГОЛКИ ОСТРЫ,
СКОЛЬКО ИХ? ОДИН, ДВА, ТРИ!




ВОТ ЧЕТЫРЕ СТОРОНЫ
И ОНИ ВСЕГДА РАВНЫ.
А ФИГУРА ТА, РЕБЯТА,
НАЗЫВАЕТСЯ КВАДРАТОМ.




НАРИСУЕМ МЫ КРУЖОЧЕК:
РОТИК В НЕМ И ПАРА ТОЧЕК.
СОЛНЦЕ КРУГЛОЕ И МЯЧИК,
КРУГ ДАВНО ЗНАКОМ НАМ, ЗНАЧИТ.








НА СТЕНЕ ВИСИТ ОВАЛ,
В НЕМ СЕБЯ Я УВИДАЛ.
ЛЮБЛЮ В ЗЕРКАЛО СМОТРЕТЬСЯ,
ПЕРЕД НИМ ЛЮБЛЮ ВЕРТЕТЬСЯ.




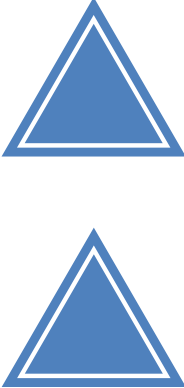

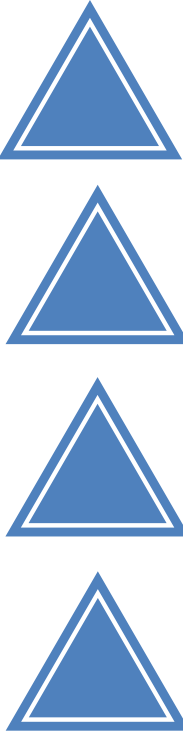
КАК ОКНО ПРЯМОУГОЛЬНИК,
АККУРАТНЫЙ, СЛОВНО ШКОЛЬНИК.
ОН ПОХОЖ НА ДВЕРЬ, НА КНИЖКИ,
И НА РАНЕЦ У МАЛЬЧИШКИ.




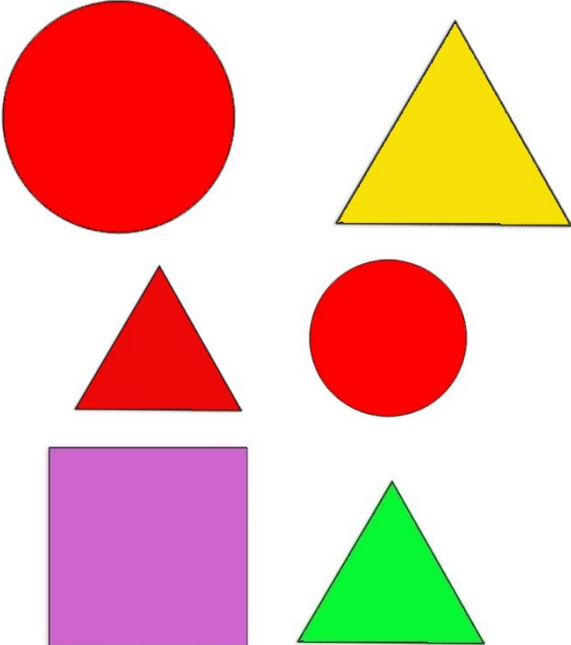


3. НАЙДИ ПО ТЕНИ И СОЕДИНИ



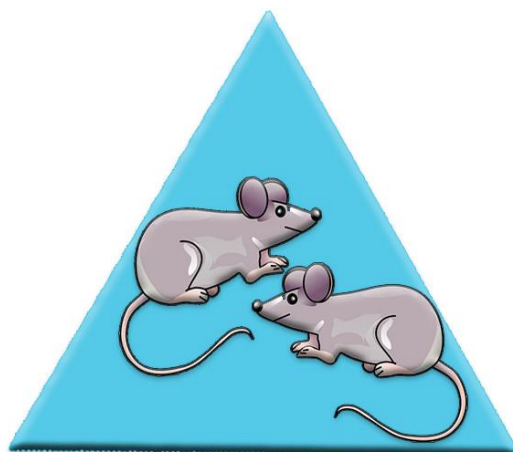
4. ПОДУМАЙ И СКАЖИ, СКОЛЬКО ФИГУР ДОЛЖНО НАХОДИТЬСЯ
В ПУСТОМ СТОЛБИКЕ?

				
---	---	---	---	--

5. НАЙДИ И ПОКАЖИ УКАЗАННОЕ КОЛИЧЕСТВО ФИГУР

		 
---	--	--

6. КТО В КАКОМ ДОМИКЕ ЖИВЕТ?



Уважаемые педагоги!

Прочитайте ребенку отдельно каждый вопрос, внимательно рассмотрите с ним картинки.

Предложите самостоятельно найти правильный ответ и выполнить задание.

Подсчитайте количество правильно выполненных ребенком заданий и поставьте место соответствующее баллам.

1 место – нет ошибок; 2 место – 2 ошибки; 3 место – 4 ошибки; участник – 5-6 ошибок.

Викторину нам не отправлять! В заявке, в строке «Название викторины» поставьте соответствующее - место, которое участник получил по подсчитанным вами баллам.