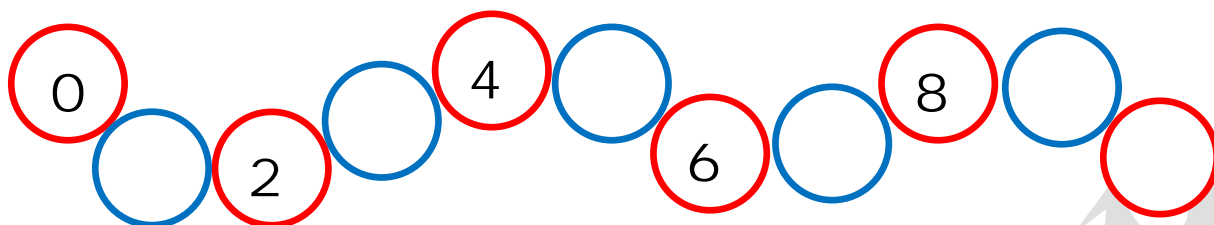
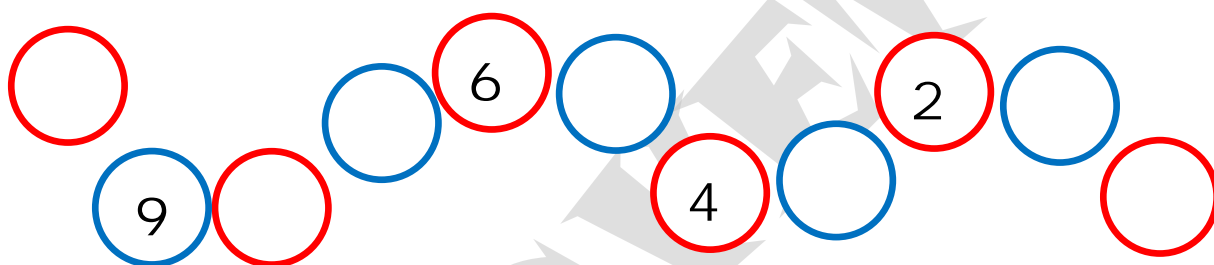


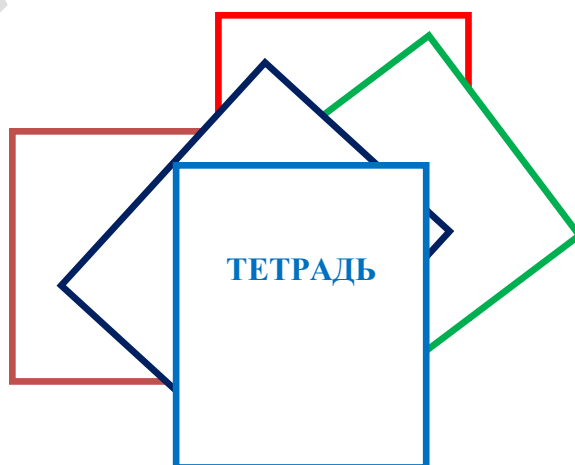
**1. НАПИШИ ПРОПУЩЕННЫЕ ЦИФРЫ.**



**2. НАПИШИ ПРОПУЩЕННЫЕ ЦИФРЫ В ОБРАТНОМ ПОРЯДКЕ.**



**3. СОСЧИТАЙ, СКОЛЬКО ТЕТРАДЕЙ ЛЕЖИТ НА СТОЛЕ.**



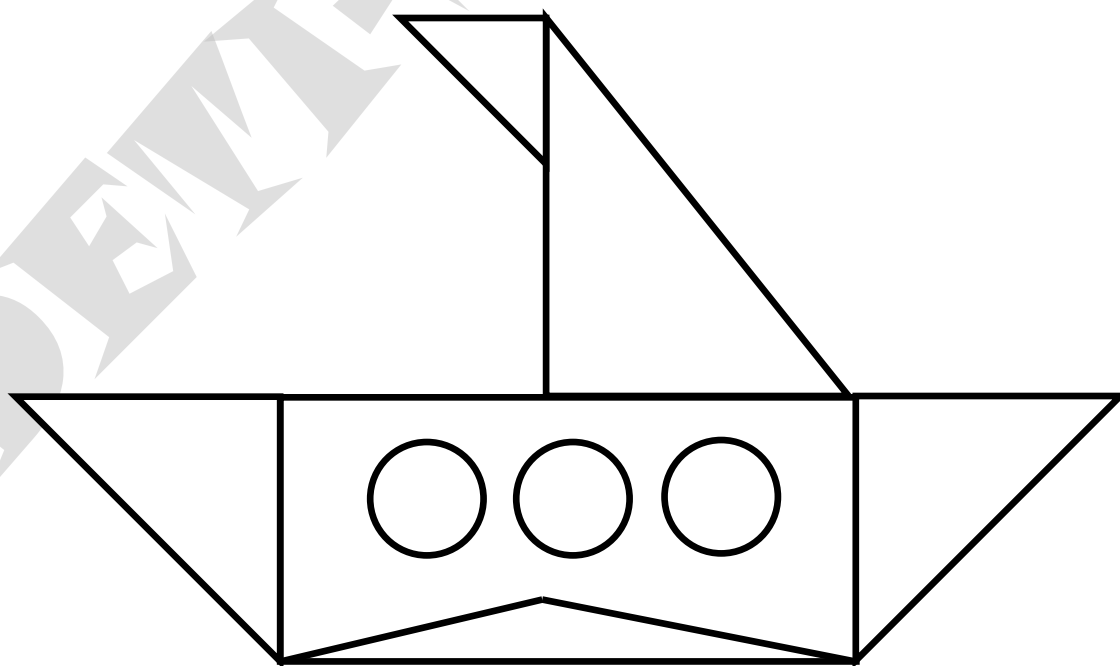


6. СРАВНИ ЧИСЛА И ПОСТАВЬ ЗНАКИ.

> = <

10		1	2		7
8		8	6		3
5		4	9		10



7. СОСЧИТАЙ, СКОЛЬКО ТРЕУГОЛЬНИКОВ? РАСКРАСЬ ТОЛЬКО ТРЕУГОЛЬНИКИ.




8. НАЙДИ, ОБВЕДИ И СОСЧИТАЙ НА РИСУНКЕ ВСЕ ЦИФРЫ 5.



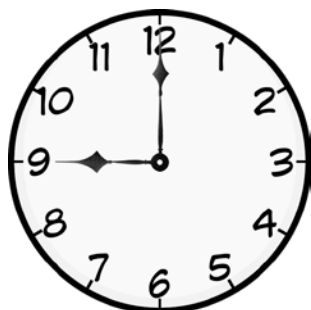
9. СКОЛЬКО УГЛОВ У КАЖДОЙ ФИГУРКИ? СОСЧИТАЙ И НАПИШИ.




**10. КАКОЕ ВРЕМЯ ПОКАЗЫВАЮТ ЧАСЫ? НАПИШИ ЦИФРЫ.**




**2 часа**




**... часов**



**... часов**




**... часов**




**... часа**




**... часов**



**... часов**



**... час**



**... часов**

11. ПОСЧИТАЙ, СКОЛЬКО ЛИСТОЧКОВ, ЁЛОЧЕК И ЯБЛОЧЕК?  
НАПИШИ.





12. РАЗДЕЛИ ШИШКИ ПОРОВНУ МЕЖДУ БЕЛОЧКАМИ. СКОЛЬКО ШИШЕК ДОСТАНЕТСЯ КАЖДОЙ БЕЛОЧКЕ? ПОКАЖИ СООТВЕТСТВУЮЩУЮ ЦИФРУ.

5

2

9



**13. РЕШИ ПРИМЕРЫ И ВПИШИ НУЖНЫЕ ЦИФРЫ.**


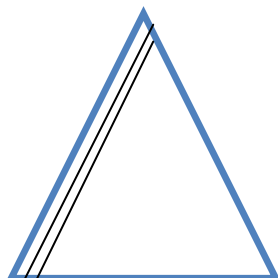

+ 2   - 4   + 5   - 7   + 6   + 1



**14. ПРОДОЛЖИ РЯД.**

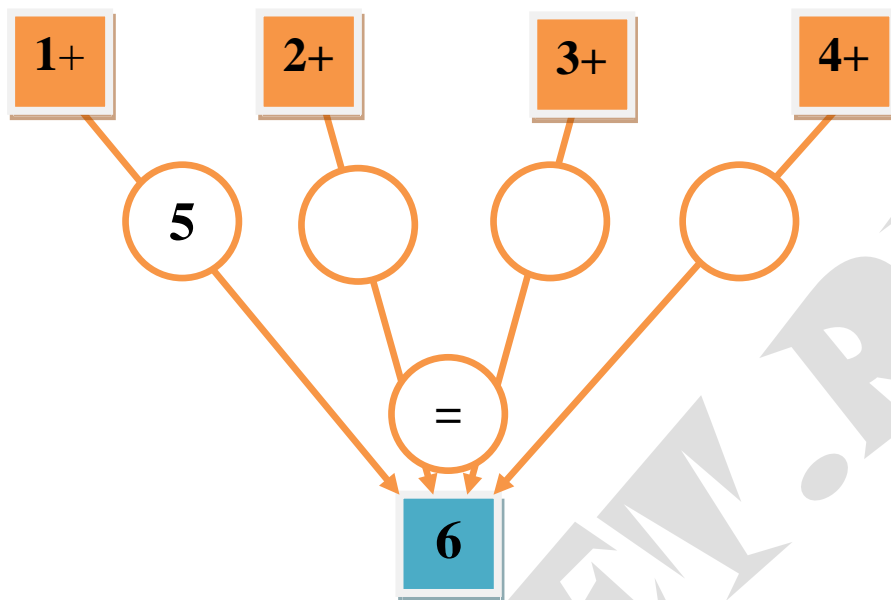


**15. ВЫПОЛНИ ШТРИХОВКУ.**





16. ПОДУМАЙ, И НАПИШИ НЕДОСТАЮЩИЕ ЦИФРЫ.



17. СОСТАВЬ ЗАДАЧУ ПО КАРТИНКЕ И РЕШИ ЕЁ.



18. ЗАПИШИ РЕШЕНИЕ ЗАДАЧИ, ДАЙ ПОЛНЫЙ ОТВЕТ.

$$\square + \square = \square$$

**Уважаемые педагоги! Подсчитайте количество правильно выполненных ребенком заданий и поставьте в заявке место соответствующее баллам.**

**1 место – нет ошибок;**

**2 место – 2 ошибки;**

**3 место – 4 ошибки;**

**Дипломант – 6 ошибок;**

**Участник – 7 и более ошибок.**

**DEVI'S KEY .RO**